

**TÜRKÇE TESTİ**

- Bu testte toplam 12 soru vardır.
- Cevaplarınızı optik formun Türkçe kısmına işaretleyiniz.
- Bu test için önerilen süre 15 dakikadır.

"Söz gümüşse sükut altındır." sözü, konuşulan söz ne kadar değerli olsa bile sessizlik daha değerlidir anlamına gelmektedir. Bu sözü bir yerlerde duymuşsunuzdur. "Sükut" kelimesinin değerini ne de güzel vurgulamışlar söyleyenler değil mi?Gerçekten de bazı zamanlar susmak, sessiz kalmak konuşmaktan çok daha iyi olup daha fazla yarar getirir.Bu doğrultuda eğer konuşmak işe yaramıyorsa susmak daha etkili yöntem olabilir.

**1 VE 2.SORUYU YUKARIDAKİ PARÇAYA GÖRE CEVAPLANDIRINIZ.**

4. 5/F sınıfında sınıf öğretmeni öğrencilerin oy kullanarak başkanlık seçimi yapacağını söylemiştir.Elif parmak kaldırarak"Öğretmenim ben taraf tutmuyorum,oy vermek istemiyorum." demiştir.

**Yukarıdaki parçada Elif bunu söyleyerek hangi kişilik özelliğini belirtmiştir?**

- A) Çelişkili olduğunu
- B) Çekingen olduğunu
- C) Çekimsiz olduğunu
- D) Çelimsiz olduğunu

1. Yukarıdaki parçadan aşağıdakilerden hangisi çıkarılabilir?

- A) Konuşmak her zaman faydasız eylemdir.
- B) Susmak bazen konuşmaktan daha iyi olabilir.
- C) Sessiz kalmak konuşmaktan daha fazla yarar getirmez.
- D) Konuşmak da susmak da her zaman işe yarar.

2. Yukarıdaki parçada aşağıdaki hangi söz sanatına yer verilmiştir?

- A) Abartma
- B) Kişileştirme
- C) Konuşturma
- D) Benzetme

3. Aşağıdaki kelimelerden hangisinin kökü yan tarafta yanlış verilmiştir?

- A) Günlük (Kök:Gün)
- B) Katkılı(Kök:Katkı)
- C) Bozuk(Kök:Boz)
- D) Sözcük(Kök:Söz)

5. Halkalı gezegen denince aklımıza ilk olarak Satürn geliyor.Oysa Güneş sistemimizin diğer gaz devlerinin de halkaları bulunur.Neptün'ün halkalarının ilk belirgin fotoğrafları,33 yıl önce bu gezegeni ziyaret eden tek uzay aracı olan Voyager 2 tarafından kaydedilmiştir. Bir süredir fotoğraflarıyla gök bilim severleri büyüleyen James Webb Uzay Teleskobu,Neptün'ü ve halkalarını alışılmışın dışında bir görüntüyle bize sundu.

**Yukarıdaki parçadan aşağıdakilerden hangisi çıkarılamaz?**

- A) Neptün'ün halkalarının ilk belirgin fotoğrafı Voyager 2 tarafından kaydedilmiştir.
- B) James Webb Uzay Teleskobu,Neptün'ü ve halkalarını her zamankinden farklı bir görüntüyle bize sunmuştur.
- C) 33 yıl önce Neptün'ü ziyaret eden tek uzay aracı Voyager 2'dir.
- D) Halkalı gezegen deyince aklımıza sadece Satürn gelir.

6. **1.metin:**İlk telefon 1876'da Alexander Graham Bell tarafından icat edilmiştir.14 Şubat 1876'da patent başvurusunda bulunmuştur.  
**2.metin:**ABD'li mühendis Martin Cooper 1973 yılında Motorola şirketinde çalıştığı sırada cep telefonunu icat etmiştir.

**Yukarıda verilen iki metnin anlamca doğru birleştirilmiş hali aşağıdakilerden hangisidir?**

- A)** İlk telefon Alexander Graham Bell tarafından 1876'da icat edilmiş olup 14 Şubat 1876 'da patent başvurusunu yapmıştır.Mühendis Martin Cooper, Motorola şirketinde çalışırken 1973 yılında cep telefonunu icat etmiştir.
- B)** İlk telefon Alexander Graham Bell tarafından icat edilmiş olup 14 Şubat 1876 'da patent başvurusunu yapmıştır. Mühendis Martin Cooper, Motorola şirketinde çalışırken 1973 yılında cep telefonunu icat etmiştir.
- C)** Alexander Graham Bell tarafından 1876'da ilk telefon icat edilmiştir ve 14 Şubat 1876'da patent başvurusu yapılmıştır.Cep telefonunu ABD'li Mühendis Martin Cooper 1973 yılında Motorola şirketinde çalıştığı sırada icat etmiştir.
- D)** İlk telefon Alexander Graham Bell tarafından 1876'da icat edilmiş olup 14 Şubat'ta patent başvurusunu yapmıştır.ABD'li Mühendis Martin Cooper, Motorola şirketinde çalışırken 1973 yılında cep telefonunu icat etmiştir.

7. **Aşağıdaki cümlelerin hangisinde deyim açıklamasıyla verilmemiştir?**

- A)** Dün spor yaparken çok yorulmuşum, adeta pestilim çıkmış.  
**B)** Onların son zamanlarda biti kanlandı, birdenbire zenginleştiler.  
**C)** Çocuğun pabuç kadar dili vardı, herkesle sohbet etmeye bayılırdı.  
**D)** Aylarca topluma karışmamış,dünyadan geçmişti.

8. Yeşil gübreleme( ) toprağa besin kazandırmak amacıyla yetiştirilen bazı bitkilerin yeşilliğini kaybetmeden toprağa gömülmesidir( ) Bunlardan bazılarını sıralayalım( ) yonca ( )soya fasulyesi( ) bakla( )

**Yukarıdaki parçada yay ayraç ile gösterilen boşluklara sırasıyla aşağıdaki noktalama işaretlerinden hangileri getirilmelidir?**

- A)** (;) (.) (;) (,) (,) (.)  
**B)** (;) (.) (;) (,) (,) (.)  
**C)** (,) (.) (;) (,) (,) (...)  
**D)** (,) (;) (;) (,) (,) (...)

9. Merak yaşam boyu süren bir duygudur ve doğuştan gelir.Yaşamımızın ilk yılları en meraklı olduğumuz zamanlardır.Konuşmaya başladığımız andan itibaren merak da etmeye başlarız.Pek çok soru sorarız ve çevremizdeki her olayı keşfetmek isteriz.Bu keşif aslında kendimizi de keşfetmemizi sağlar.Nasıl mı?Sorduğumuz tüm soruların içinden bazılarının yanıtları ilgisimizi daha çok çeker.Her birimizin ilgisini çeken şeyler farklı olduğu için kendimizi tanımamızı sağlar merak etme duygusu.

**Yukarıdaki parçada asıl anlatılmak istenen nedir?**

- A) Merak kişinin kendisini tanımasını ,keşfetmesini sağlar.  
B) Merak etmek kişinin hayatı için çok önemlidir.  
C) Doğuştan gelen merak yaşam boyu sürer.  
D) Soru sormak bizim için çok önemlidir.

Arkeoloji müzesine yapılan bir geziye 5 ve 6.sınıflardan öğrenciler katılmıştır. Burak,Nil,Cemre,Ceren,Batu,Berk isimli öğrenciler giriş bileti almak için sıraya girmişlerdir.Bu öğrencilerin sınıfları ve sıraları ile ilgili şunlar bilinmektedir:  
-Sadece Burak,Cemre ,Batu 6.sınıftır .  
-Sıranın başında ve sonunda 5.sınıf öğrencileri vardır.  
-1.sırada kız öğrenci ,sonuncu sırada erkek öğrenci vardır.  
-Cemre 5.sırada bilet almak için beklemektedir.  
-Burak ile Batu arasında bir kız öğrenci beklemektedir.

**11 VE 12.SORUYU YUKARIDAKİ BİLGİLERE GÖRE CEVAPLANDIRINIZ.**



**11. Yukarıdaki bilgilere göre aşağıdakilerden hangisi kesin olarak bilinir?**

- A) Berk 6.sıradadır.  
B) Batu 4.sıradadır.  
C) Burak 2.sıradadır.  
D) Ceren 3.sıradadır.

- 10.Nedir bilmem,  
İçimdeki bu karanlık.  
Ne yerdeyim ne gökte  
Ümitlerim solmuş bu ara  
Ne yarındayım ne dünde.

**Yukarıdaki şiirin ana duygusu nedir?**

- A) Özlem  
B) Umutsuzluk  
C) Endişe  
D) Yalnızlık

**12. Nil'in 1.sırada olduğu biliniyorsa Burak ile Batu arasında kim vardır?**

- A) Cemre  
B) Ceren  
C) Nil  
D) Berk

**Türkçe Testi Bitti.**

**Hayat Bilgisi Testine Geçiniz.**

**SOSYAL BİLGİLER TESTİ**

- Bu testte toplam 12 soru vardır.
- Cevaplarınızı optik formun Sosyal Bilgiler kısmına işaretleyiniz.
- Bu test için önerilen süre 15 dakikadır.

1. Etkin Bir Vatandaşın Özellikleri
- ?

Şemada (?) olan yere aşağıdakilerden hangisi yazılırsa yanlış olur?

- A) Baskıcı B) Bilinçli  
C) Sorumluluk Sahibi D) Duyarlı

2. Olayların birçok nedeni ve birçok sonucu olabilir. Bu duruma olayların çok boyutluluğu denir.

Trafik Kazalarının .....  
Araçla aşırı hız yapılması  
Araç bakımının yapılmaması  
Araçla giderken telefon kullanılması

Yukarıda trafik kazaları ile verilen bilgiler olayların çok boyutluluğunun hangi aşaması ile ilgilidir?

- A) Etki alanı B) Nedenleri  
C) Sonuçları D) Etki süresi

3. Ceren'in aşağıdaki davranışlarından hangisinin "Katılım Hakkını" kullanması ile ilgili olduğu söylenebilir?

- A) Okul kantininden alışveriş yapması  
B) Okul bahçesinde oyun oynaması  
C) Sınıf başkanlığı seçiminde oy kullanması  
D) Okula gitmesi



İlk çağlardan itibaren insanlar Fırat ve Dicle nehirleri arasında kalan Mezopotamya denilen bölgede tarımsal faaliyetler yapmışlardır.

İlk çağlardan beri Mezopotamya'da tarımsal faaliyetler yapılmasında aşağıdakilerden hangisinin etkisinden söz edilebilir?

- A) Su kaynaklarına yakın olması  
B) Maden bakımından zengin olması  
C) Ticaret yolları üzerinde olması  
D) Çok fazla insanın yaşaması

5. Aşağıdaki tarihi eser –doğal güzellik eşleştirmelerinden hangisi doğrudur?

	Tarihi Eser	Doğal Güzellik
A)	Göl	Köprü
B)	Dağ	Heykel
C)	Kervansaray	Akarsu
D)	Mağara	Vazo

6. Milli ve dini bayramlarımız milletçe kutladığımız çok önemli değerlerimizdir. Bu bayram günlerimizde benzer ve farklı birtakım kutlamalar yapılır.

**Aşağıdakilerden hangisi milli ve dini bayram kutlamalarımız arasındaki farklılıklar içerisinde yer almaz?**

- A) Resmi tören düzenlenmesi  
B) Kurban kesilmesi  
C) Bayram namazı kılınması  
D) Sevinçli ve coşkulu olmak

9. Geleneksel el sanatları Türk kültürünün bir kısmını meydana getiren sanat ve sanat türlerinin genel adıdır.

**Aşağıdakilerden hangisi geleneksel el sanatlarımız arasında yer almaz?**

- A) Semercilik  
B) Taş işçiliği  
C) Heykeltçilik  
D) Halıcılık

7. Kültürel öğeler zaman içinde değişebileceği gibi hiç değişmeden de günümüze kadar gelebilir. Kültürel değerlerimizden bazıları çok eskilere dayanırken bazıları ise sonradan kültürümüze dahil olmuştur.

**Aşağıdakilerden hangisi kültürümüze diğerlerine göre daha sonradan girmiştir?**

- A) Lokum  
B) Türk Kahvesi  
C) Gül suyu  
D) Çikolata

- 10.I. Bir kimsenin üzerine aldığı, yapmak durumunda bulunduğu durumdur.

II. Hukukun bir kimseye tanıdığı kazanımlardır.

**Yukarıda verilen tanımların ait olduğu kavramlar sırası ile hangi seçenekte doğru verilmiştir?**

	I	II
A)	Hak	Rol
B)	Sorumluluk	Hak
C)	Sorumluluk	Rol
D)	Hak	Sorumluluk

8. Yeryüzünün tamamının veya bir bölümünün kuş bakışı olarak belirli bir ölçek dahilinde küçültülüp bir düzlem üzerine aktarılmasına.....denir.

**Yukarıda verilen tanım aşağıdakilerden hangisi ile ilgilidir?**

- A) Kroki  
B) Harita  
C) Taslak  
D) Uydu

11. - Anadolu'daki en geniş sınırlara ulaşan medeniyettir.  
- Anadolu'da objektif tarih yazıcılığını başlatan uygarlıktır.

Yukarıda verilen bilgiler aşağıdaki hangi uygarlığa aittir?

- A) Lidyalılar  
B) Urartular  
C) Frigler  
D) Hititler

12.

?
Kına Gecesi
Çeyiz
Bindallı
Halay

Verilen şemada ? olan yere aşağıdaki kültürel öğelerimizden hangisi yazılırsa daha doğru olur?

- A) Düğün  
B) Yağlı Güreş  
C) El Sanatları  
D) Tarihi evlerimiz



Sosyal Bilgiler Testi Bitti.

Din Kültürü ve Ahlak Bilgisi Testine Geçiniz.



6. Ramazan ayı gelmiş her yanı bir huzur kaplamıştı. Fırınlardan mis gibi pide kokusu geliyor, camiler mahyalarla süsleniyordu.Mübarek Ramazan ayı bereketiyle gelmişti.Recep amca her yıl olduğu gibi bu yılda orucunu tutmak istiyordu ancak diş ağrısı tuttu. Doktora gitti, doktor ona bir hafta kullanmak üzere ilaç verdi ve mutlaka kullanması gerektiğini söyledi. **Recep amca yaşadığı bu durum karşısında ne yapmalıdır?**
- A) Daha sonra kaza orucu tutmalıdır.  
B) Bayram günlerini oruç tutarak geçirmelidir.  
C) Nafile orucu tutmalıdır.  
D) Fitre vermelidir.

8. "Sizden biriniz dua ederken "Allah'ım, dilersen beni başıyla, dilersen bana merhamet et" demesin.Dileğini kesin bir dille iletisin" (Hadis-i Şerif)

**Yukarıda verilen hadis-i şeriften aşağıdaki yargılardan hangisine ulaşılır?**

- A) Dua ederken ümitsiz olmamalı, kararlı ve samimi olmalıdır.  
B) Duanın ibadetten önemli olduğu bilinmelidir.  
C) Sadece önemli gün ve gecelerde dua edilmelidir.  
D) Dua ederken bazen kabul olmayabileceği bilinmelidir.



7. (I) Hz.İbrahim Kur'an-ı Kerim'de kıssasına genişçe yer verilen peygamberlerdendir. (II) Yaşadığı çevredeki insanların putperest olmasına rağmen, O hiçbir zaman putlara tapmamış, aklıyla Allah'ın varlığına ulaşmıştır. (III) Kendisine Habibullah lakabı verilmiştir. (IV) Allah tarafından peygamberlikle görevlendirildikten sonra 10 suhuf verilmiştir.

**İbrahim (as) ile ilgili verilen metinde kaç numaralı cümlede hatalı bilgi vardır?**

- A) IV  
B) I  
C) II  
D) III



9. Ayşe ve Mert çifti yıllardır çalışıyorlardı.Kazandıkları parayı güzel bir ev satın almak için biriktiriyorlardı. Nihayet istedikleri gibi bir ev buldular, o evi alabilmek için birikimlerini topladılar.Allah'a dua ettiler:" Allah'ım şu evi alabilirsek 3 gün oruç tutacağız" dediler.

**Ayşe ve Mert çiftinin tutmayı planladıkları oruç aşağıdakilerden hangisidir?**

- A) Kaza orucu                      B) Nafile oruç  
C) Adak orucu                      D) Kefaret orucu

11. Mandalina yemeyi çok seven Kübra, mutfaktan yemek için mandalina alıp kabuklarını soymaya başladı. Mandalinanın sanki kendisi için dilimlere ayrılmış gibi olan görüntüsüne daha önce hiç dikkat etmediğini farketti.Bir yandan yerken bir yandan da "Allah'ım bizim için ne güzel nimetler yaratıyorsun, sana şükürler olsun" diyerek Allah'a şükretti.

**Yukarıdaki paragrafta anlatıldığı gibi Allah'ın her şeyi yoktan yaratma sıfatına ne ad verilir?**

- A) Vahdaniyet                      B) Kudret  
C) Tekvin                              D) Tevhid



**körfez**®  
EĞİTİM KURUMLARI  
1995

10. "O Allah ki, O'ndan başka ilah yoktur.Gaybı da müşahede edilebileni (görülebileni)de bilendir.Rahman ve Rahim olan O'dur.(Haşr, 22.ayet)

**Yukarıdaki ayette geçen Allah'ın Rahman ismi ile ilgili aşağıdakilerden hangisi söylenemez?**

- A) Kış aylarında ihtiyacımıza uygun meyve ve sebzeleri yaratması.  
B) Yüce Allah'ın eşi ve benzerinin olmaması.  
C) Arıların biz insanların yararına bal yapıyor olması.  
D) Atmosferde ihtiyacımız olan oksijenin var olması.

12. Ramazan ayının önemi konulu pano çalışması yapan öğrenciler aşağıdaki yazıları hazırlamışlardır:

**Elif:** Kur'an-ı Kerim bu ayda indirilmeye başlamıştır.  
**Can:** Müslümanlar arasında paylaşma-yardımlaşma duyguları bu ayda pekişir.  
**Betül:** Müslümanlara emredilen namaz ibadeti bu ayda emredilmiştir.  
**Ahmet:** Ramazanda kılınan teravih namazı ile camiler dolar taşar.

**Bu bilgilere göre hangi öğrencinin hazırladığı yazı panoya asılırsa yanlış bilgi olur?**

- A) Elif                                      B) Betül  
C) Ahmet                                  D) Can

**Din Kültürü Ve Ahlak Bilgisi Testi Bitti.**

**İngilizce Testine Geçiniz.**

**İNGİLİZCE TESTİ**

- Bu testte toplam 12 soru vardır.
- Cevaplarınızı optik formun İngilizce kısmına işaretleyiniz.
- Bu test için önerilen süre 15 dakikadır.

**Olga** : Hello! I am Olga. What is your name?

**Peter** : Hi! My name is Peter.

**Olga** : Glad to meet you.

**Peter** : .....

**George** : Do you like science classes, Martin?

**Martin** : Oh, yes! I love doing experiments in the lab.

**George** : What about art?

**Martin** : Not really. ....

1. Which of the following completes the conversation?

- A) I'm French.
- B) It's nice to meet you, too.
- C) I like history.
- D) You're welcome.

3. Which of the following does NOT complete the conversation?

- A) I don't like it.
- B) I'm bad at art.
- C) I hate drawing pictures.
- D) I really enjoy art lessons.

**Lucy** : Hello! I am Lucy. What is your name?

**Thomas** : Hi! My name is Thomas.

**Lucy** : .....

**Thomas** : No. I'm not. I'm from Canada.

**Lucy** : .....

**Thomas** : I'm ten years old.

**Lucy** : .....

**Thomas** : It's music. I love playing the violin and singing

2. Which of the following does NOT complete the conversation?

- A) How old are you?
- B) Are you from England?
- C) Which lessons do you have in your school timetable today?
- D) What's your favourite school subject?

Hello, I am Ethan. I have a clothes shop in a shopping mall. My shop is on the second floor, opposite the supermarket. Behind the supermarket, there is a pharmacy. There is a toy shop on the right and a café on the left side of my clothes shop.

4. Which of the following is false according to the text above?

- A) The toy shop is next to the café.
- B) The supermarket is on the second floor.
- C) The pharmacy is behind the supermarket.
- D) The clothes shop is between the toy shop and the café.

**Eddie** : I want to watch a movie with my friends.

**Jason** : I want to buy a gift to my grandmother.

**Luna** : I want to see different animals.

**Mike** : I want to read a book in a quiet place.

5. According to the sentences above, who wants to go to the zoo?

- A) Eddie
- B) Jason
- C) Luna
- D) Mike

It's a kind of activity. You can fold a piece of paper to make decorative shapes like flowers, birds and other things.

7. According to the information above, which activity is mentioned?

- A) Origami
- B) Hopscotch
- C) Tic – Tac – Toe
- D) Blind man's buff



**Körfezim**®  
EĞİTİM KURUMLARI  
1995

**The stranger** : Excuse me! I want to send these letters.  
.....

**Barbara** : Yes, there is one on Power Street.  
Go straight ahead and take the third right. It's on your left, opposite the butcher's.

**The stranger** : Thank you very much.

**Barbara** : Not at all.

**Roger** : I love watching basketball matches on TV.

**Oscar** : I like playing tennis with my sister.

**Alice** : I go horse riding every weekend.

**Jessica** : I enjoy checkers very much.

6. Which of the following completes the dialogue above?

- A) How can I go to the library?
- B) Is there a post office nearby?
- C) Where can I find a stationery?
- D) Can you tell me the way to the bookshop?

8. According to the information above, who is talking about a board game?

- A) Roger
- B) Oscar
- C) Alice
- D) Jessica

Hi! I am Robinson. I am twelve years old. I can ride a bike but I can't swim. Because I am afraid of water. I love playing football but I hate playing tag.

9. Which of the following is NOT correct about Robinson?

- A) He doesn't like tag.
- B) He is good at cycling.
- C) He loves rollerskating.
- D) He is afraid of water so he can't swim.

### PATRICIA'S SATURDAY ROUTINE

- 10.30 have breakfast
- 12.00 ride a bike in the park
- 14.45 go to the guitar course
- 16.15 get back home and have a snack
- 17.00 do homework
- 18.30 have dinner
- 20.00 watch a film with her cousins
- 22.30 read a book and go to bed

11. According to the table, Patricia .....

- A) has breakfast before bike-riding.
- B) reads a book with her cousins.
- C) does her homework after dinner.
- D) has guitar course at a quarter past two.



(I) William is a 5th grade student at Hamilton Elementary School. (II) He gets up at seven on weekdays, has breakfast with his family and leaves home at eight o'clock to catch the school bus. (III) He dislikes geography classes because it is boring for him. (IV) His school starts at nine in the morning and finishes at five in the evening so he spends eight hours at school.

10. Which sentence is irrelevant in the text above?

- A) I
- B) II
- C) III
- D) IV

(I) He goes online for an hour until his parents arrive home.  
(II) Tommy is so tired after school because he has eight lessons from Monday to Friday.  
(III) When he comes back home from school, he never starts doing his homework because he waits for his parents' coming.  
(IV) The family has dinner together and then, he goes to bed after finishing his homework.

12. Put the sentences into the correct order.

- A) IV - I - III - II
- B) I - II - IV - III
- C) III - IV - II - I
- D) II - III - I - IV

İngilizce Testi Bitti.

Matematik Testine Geçiniz.

**MATEMATİK TESTİ**

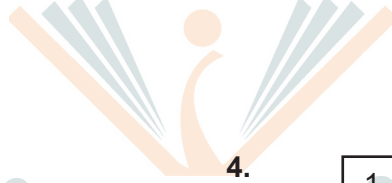
- \* Bu testte toplam 12 soru vardır.
- \* Cevaplarınızı optik formun Matematik kısmına işaretleyiniz.
- \* Bu test için önerilen süre 15 dakikadır.

1. Fatih Bey'in kasasının şifresi 7 basamaklı bir sayıdır. Şifrenin ilk dört basamağı rakamları farklı en büyük tek sayı, son üç basamağı ise yedinin küpü olan sayıdır.  
**Buna göre, Fatih Bey' in kasası için belirlediği şifre aşağıdakilerden hangisidir?**

- A) 9 875 021                      B) 9 875 543  
C) 9 876 543                      D) 9 875 343

3. Özel Körfezim Ortaokulu 5.sınıf öğrencileri futbol turnuvasına gideceklerdir. Okulda beş tane 5.sınıf bulunmaktadır. Her sınıftan altı kişi gidecek, her sınıfın başında ise bir öğretmen görevlendirilecektir. Ayrıca okulu temsilen de okul aile birliği başkanı da katılacaktır. Turnuvaya gidilecek otobüsün ücreti öğrenciler için 50 TL yetişkinler için 70 TL'dir. Okul aile birliği başkanı bir sınıfın öğrencilerinin ücretini ve kendi parasını karşılayacaktır. Geri kalan ücreti ise okul verecektir.  
**Buna göre okul, otobüs için toplam kaç para ödeyecektir?**

- A) 1850    B) 1600    C) 1550    D) 1200



4.

1	2	3	4	5	6	7	8	9
---	---	---	---	---	---	---	---	---

Yukarıda yazan rakamların hepsi kullanılarak oluşturulacak 9 basamaklı sayı için aşağıda bazı bilgiler verilmiştir.

2. Üç arkadaş fazla kilolarından dolayı diyeteye başlayacaklardır. İlk tartıldıklarında Mehmet 118 kg, Salih 131 kg olup Emre'nin kilosu bilinmemektedir. Bu üç arkadaşın her birinin başlangıç kilosu en yakın onluğa yuvarlanıp toplandığında 390 kg gelmektedir. Bir aylık diyetin sonunda her biri 10 kg zayıflamışlardır.  
**Buna göre, Emre'nin kilosu bir aylık diyetten sonra aşağıdakilerden hangisi olamaz?**

- A) 135    B) 132    C) 130    D) 125

- Her rakam birkez kullanılmaktadır.
- Her bölükte oluşan sayıların rakamlarının toplamı birbirine eşittir.
- Oluşturulacak sayı tek sayı olmalıdır.

**Verilen bilgilere göre oluşturulabilecek en büyük doğal sayı aşağıdakilerden hangisidir?**

- A) 960861753                      B) 951843627  
C) 987654321                      D) 951843752

5. Yeterli sayıda çikolata poşetlere konulacaktır. İlk poşete 4 tane çikolata konulmuştur, sonraki her bir poşette bir önceki poşetteki çikolata sayısının 6 fazlası olacak şekilde çikolata konulmuştur. **Buna göre ilk kaçınıcı poşette en az 76 tane çikolata vardır?**

- A) 10      B) 13      C) 15      D) 19

6. Özel olarak tasarlanmış bir hesap makinesi doğal sayıları en yakın onluğa yuvarlayarak toplama işlemi yapmaktadır. **Biri 4 basamaklı diğeri 3 basamaklı iki doğal sayının toplamı 8760 olduğuna göre toplanan sayılardan biri aşağıdaki sayılardan hangisi olamaz?**

- A) 7950      B) 7845      C) 7782      D) 7743

8. Rakamları farklı, altı basamaklı tek doğal sayının binler ve birler bölüğündeki sayıların rakamları toplamı birbirine eşittir.

**Buna göre, bu sayının alabileceği en küçük değer için birler bölüğündeki sayının rakamları çarpımı kaç olur?**


- A) 0      B) 8      C) 24      D) 30

**Körfezim**<sup>®</sup>  
EĞİTİM KURUMLARI  
1995

7. Bir şişenin içinde 400 ml yağ bulunmaktadır. **Bu şişenin boşken içerisine alabileceği en fazla yağ miktarının  $\frac{2}{5}$  'si kadar yağ eklendiğinde içindeki yağ miktarı 900 ml olduğuna göre bu şişe en fazla kaç mililitre yağ almaktadır?**

- A) 560      B) 600      C) 1250      D) 1260

9.



60 cm uzunluğundaki bir kağıt sağ ve sol tarafından uzunluğunun on ikide biri kadarlık kısmı kendi üzerine şekildeki gibi katlanmaktadır. **Katlama işlemi bittikten sonra kağıdın uzunluğu kaç cm olur?**

- A) 30      B) 40      C) 45      D) 50

10.

$$\boxed{3} \rightarrow 9$$

$$\boxed{5} \rightarrow 25$$

$$\triangle 2 \rightarrow 8$$

$$\triangle 4 \rightarrow 64$$

Yukarıdaki şekillerle içinde yazan sayılar arasında bir ilişki vardır.

**Bu ilişkiye göre,**

$$\boxed{\triangle 3}$$

ifadesinin sonucu kaçtır?

- A) 81      B) 243      C) 729      D) 810

12. Ayşe bir kırtasiyede her birinde bir düzine kalem bulunan paketlerden 2 adet almıştır. Aldığı bu kalemleri 1. kutuya 3 kalem koyduktan sonra diğer kutulara bir önceki kutudan 2 kalem fazla olacak şekilde yerleştirmiştir.

**Ayşe bu işi yapmak için kaç kutu kullanmıştır?**

- A) 3      B) 4      C) 5      D) 6



11. Bir markette genişliği 10 cm olan A marka 1 litrelik süt kutuları ile genişliği 6 cm olan B marka yarım litrelik süt kutuları aynı markalar aynı rafta olmak üzere iki eş rafa aralarında boşluk kalmayacak şekilde dizilecektir. A marka sütün litresi 24 liradan, B marka sütün litresi 28 liradan satılmaktadır. **120 cm genişliğindeki raflardaki süt kutularının tamamı satıldığında kaç lira gelir elde edilir?** (Rafların başında ve sonunda boşluk bulunmamaktadır.)

- A) 568      B) 576      C) 816      D) 848

Matematik testi bitti.

Fen Bilimleri testine geçiniz

**FEN BİLİMLERİ TESTİ**

\* Bu testte toplam 12 soru vardır.

\* Cevaplarınızı optik formun Fen Bilimleri kısmına işaretleyiniz.

\* Bu test için önerilen süre 15 dakikadır.

1. Ay'ın bazı evrelerine ait özellikler aşağıda verilmiştir.

I. Dünya'dan bakıldığında tamamı aydınlık bir küre şekline benzeyen evredir.

II. Dünya'dan bakıldığında gözlemlenemeyen evredir.

**Buna göre yukarıda verilen Ay'ın evreleri dışında kalan ana evreleri aşağıdakilerden hangileridir?**

- A) Dolunay - Yeni ay  
B) Dolunay – Son dördün  
C) Son dördün - Yeni ay  
D) Son dördün – İlk dördün

3.

Ay'ın bazı evrelerinin özellikleri ile ilgili

- X → Dünya bu evrede Güneş ile Ay arasındadır.  
Y → Ay bu evrede Güneş ile Dünya arasındadır.  
Z → Ay bu evrede Dünyadan “ D “ şeklinde görülür.

**eşleştirmeleri yapılmıştır. Buna göre X, Y ve Z evreleri aşağıdakilerin hangisinde doğru olarak verilmiştir?**

	X	Y	Z
A)	Dolunay	Yeniay	İlk Dördün
B)	Yeniay	Dolunay	İlk Dördün
C)	Dolunay	Yeniay	Son Dördün
D)	Yeniay	Dolunay	Son Dördün

2. - Üzüm veya elma suyunu sirkeye dönüştürür.  
- Hastalıklara sebep olur.  
- Ölü organizmaları parçalar.  
- İlaç üretiminde kullanılır.  
- Dişlerimizi çürütür.

**Yukarıda mikroskobik canlıların sebep olduğu durumlar verilmiştir. Bunlardan kaç tanesi mikroskobik canlıların zararlıdır?**

- A) 1  
B) 2  
C) 3  
D) 4

4. **Aşağıda verilen bilgilerden hangisi ya da hangileri çiçekli ve çiçeksiz bitkiler için ortak olan özelliklerdendir?**

1. Tohum ve meyve oluşturmaları  
2. Kök yardımıyla topraktan su ve mineralleri almaları  
3. Kendi besinlerini kendileri üretmeleri

- A) Yalnız 1  
B) Yalnız 2  
C) 2 ve 3  
D) 1, 2 ve 3



	D/Y
Bir cisme uygulanan kuvvet eşit kollu terazi ile ölçülür.	
Büyük kuvvetlerin ölçüldüğü dinamometrelerde kalın yay kullanılır.	
Harekete geçirebilme, durdurabilme, yön ve şekil değiştirebilme kuvvetin etkilerindedir.	
Üzerinde 100 N yazan bir dinamometrede 200 N'lik bir kuvvet ölçülebilir.	

Yukarıda verilen tablodaki ifadelerin karşısına doğru ise "D", yanlış ise "Y" harfi yazılacaktır.

Buna göre hazırlanan tablonun doğru doldurulmuş hali aşağıdakilerden hangisidir?

- A) 

D
Y
D
Y

 B) 

Y
D
D
Y

 C) 

D
D
Y
Y

 D) 

D
D
D
Y

7. I. Ellerimizi sabun ve suyla bolca yıkamalıyız.  
II. Yiyeceklerimizi buzdolabında saklamalıyız.  
III. Dişlerimizi hergün fırçalamalıyız.  
IV. Açıkta bırakılan besinleri tüketmeliyiz.

**Mikroskopik canlıların zararlı etkilerinden korunmak için yukarıdakilerden hangisi veya hangilerini yapabiliriz?**

- A) Hepsi  
B) I ve II  
C) III ve IV  
D) I, II ve III

6. "5. Sınıf öğrencisi olan Kıvanç okulda öğrendiği Ay'ın evreleri konusunu pekiştirmek için babasının aldığı teleskop ile Ay'ı gözlemlemeye karar verir. Bir hafta boyunca Ay'ı gözlemler ve bunun sonucunda ilginç bir durumla karşılaşır. Ay'da gördüğü yüzey şekillerinin hiç yer değiştirmedikini ve aynı kaldığını yani Ay'ın sürekli aynı bölgesini gözlemlediğini fark eder."

**Bu durumun sebebi aşağıdakilerden hangisidir?**

- A) Ay'ın sürekli Dünya etrafında dolanması.  
B) Ay'ın bir ışık kaynağı olmaması.  
C) Ay'ın dünyadan daha küçük olması.  
D) Ay'ın Dünya çevresinde dolanma ve kendi çevresinde dönme sürelerinin eşit olması.

8. **En fazla 60 Newton ölçebilen bir dinamometrenin 12 bölmesi bulunmaktadır. Bu dinamometreye asıldığında 7 bölme uzamasına sebep olan bir cismin ağırlığı kaç Newton dur?**

- A) 30 N  
B) 35 N  
C) 42 N  
D) 45 N

9.

**Tarih : 29.10.2073**

Körfez Uzay Ajansı Ay'da yaşam kurmak için çalışmalarına devam etmektedir. Bunun için Ay'da bulunan astronotumuz Doğan Aydoğan'dan gelen raporlar değerlendirilmekte ve ona göre yeni projeler geliştirilmektedir.

**Astronotumuz Doğan Aydoğan'ın göndermiş olduğu raporlarda aşağıda verilenlerden hangisinin yazıyor olması beklenemez?**

- A) Ay'ın yüzeyi toz bir tabakayla kaplıdır.
- B) Hava olayları görülebilmektedir.
- C) Meteorların çarpması sonucu oluşan büyük çukurlar mevcuttur.
- D) Gece ile gündüz arasında sıcaklık farkı fazladır.

10. 5. sınıf öğrencisi olan üç arkadaş Kerem, Ahsen ve Alper mantarlarla ilgili aşağıdaki özellikleri söylemişlerdir

- Kerem** : Mantarlar toprağa bağlı olarak yaşadıkları için bitkidirler.  
**Ahsen** : Mantarlar şapkalı, küf, parazit ve maya mantarları olmak üzere dört çeşittir.  
**Alper** : Tüm mantar çeşitlerini çıplak gözle görmemiz mümkündür.

**Buna göre öğrencilerden hangilerinin mantarlarla ilgili söylemiş olduğu özellikler doğrudur?**

- A) Kerem, Ahsen ve Alper
- B) Kerem, Ahsen
- C) Yalnız Ahsen
- D) Yalnız Kerem

11. Isı ve ışık kaynağımız olan Güneş'in yapısında yaklaşık olarak %78 hidrojen, %20 helyum ve %2 de diğer gazlar bulunmaktadır. Güneş'in enerjisi milyonlarca yıldır bitmemiştir. Güneş bu enerjiyi yapısında bulunan hidrojen gazını helyum gazına dönüştürerek elde etmektedir. Yapısındaki hidrojen bitince Güneş de ömrünü tamamlamış olacaktır.

**Buna göre sadece verilen metinden;**

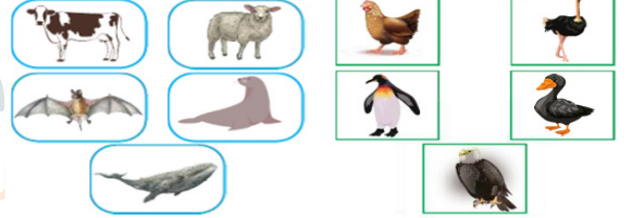
- I. Güneş'in ısı ve ışık yaymasını sağlayan hidrojenin helyuma dönüşmesidir.
  - II. Güneş'in yüzeyinde etrafına göre daha soğuk olan güneş lekeleri bulunmaktadır.
  - III. Güneş katmanlar oluşmaktadır.
- hangilerine ulaşılabilir?**

- A) I, II ve III
- B) I ve II
- C) Yalnız I
- D) I ve III

12.

Memeli Hayvanlar

Kuşlar



- I. Tüpleri olması
- II. Yavru bakımı görülmesi
- III. Yavrularını sütle beslemeleri
- IV. Kılları olması

**Yukarıda verilen maddelerden hangileri memeli hayvanlar ve kuşlar için ortaktır?**

- A) Yalnız II
- B) I ve II
- C) II ve IV
- D) I, II ve IV

Test Bitti

Cevaplarınız Kontrol Ediniz.